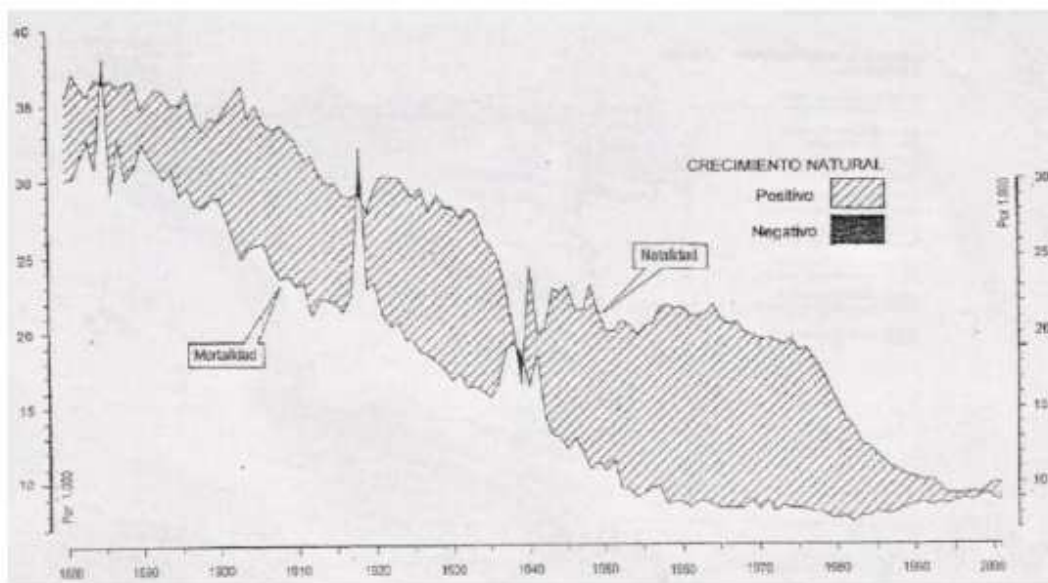
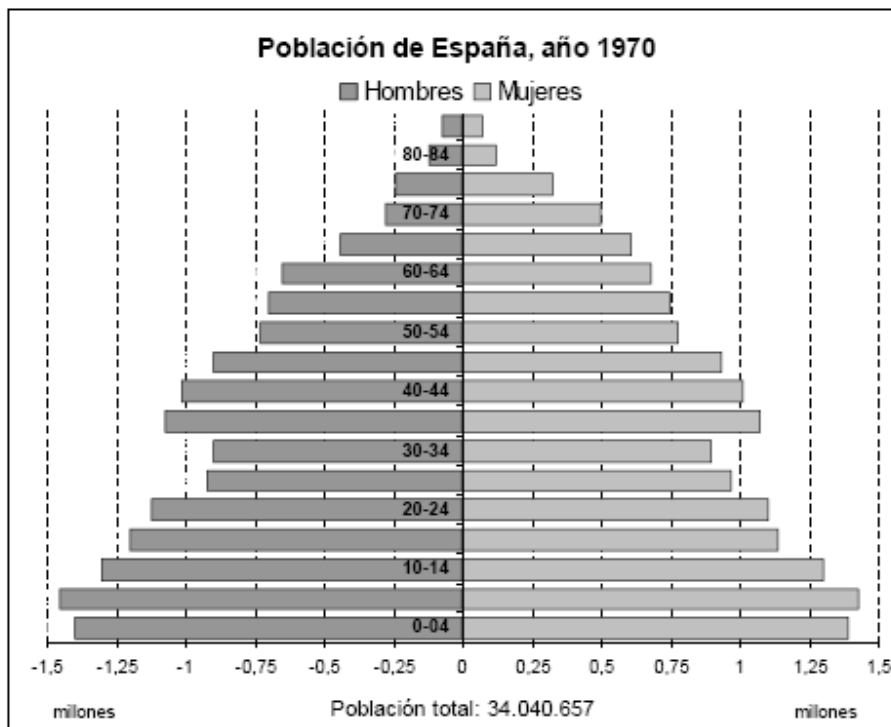


**1. Realizar el comentario al gráfico de la transición demográfica en España**



**2. Analice la pirámide de población de España del año 1970 y conteste:**

- a) Características generales, tipo de pirámide y estructura por edad y sexo.
- b) Factores que influyeron en la evolución de la población.
- c) Evolución posterior y consecuencias.

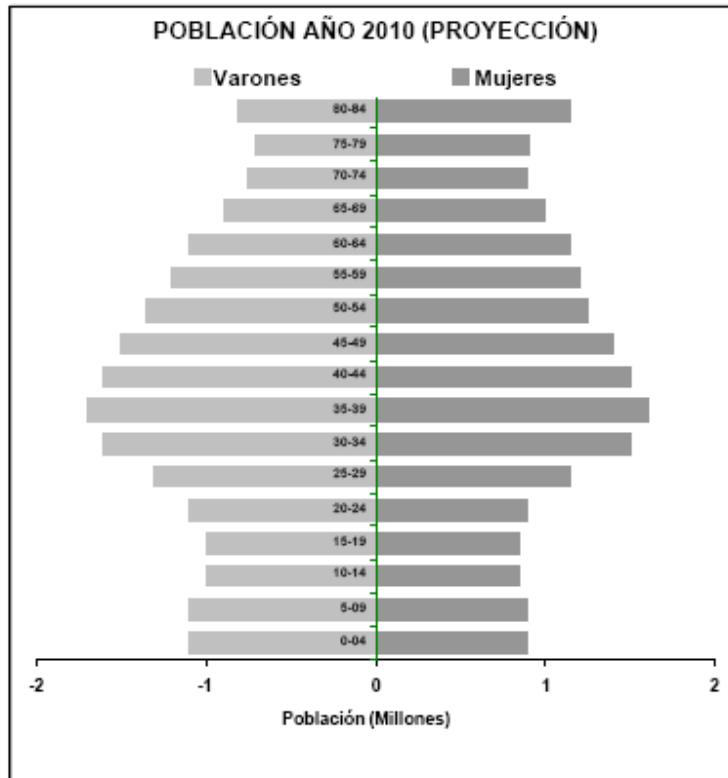


**4. Analice la pirámide de población de España del año 2010 (Proyección) y conteste:**

**a) Características generales, tipo de pirámide y estructura por edad y sexo.**

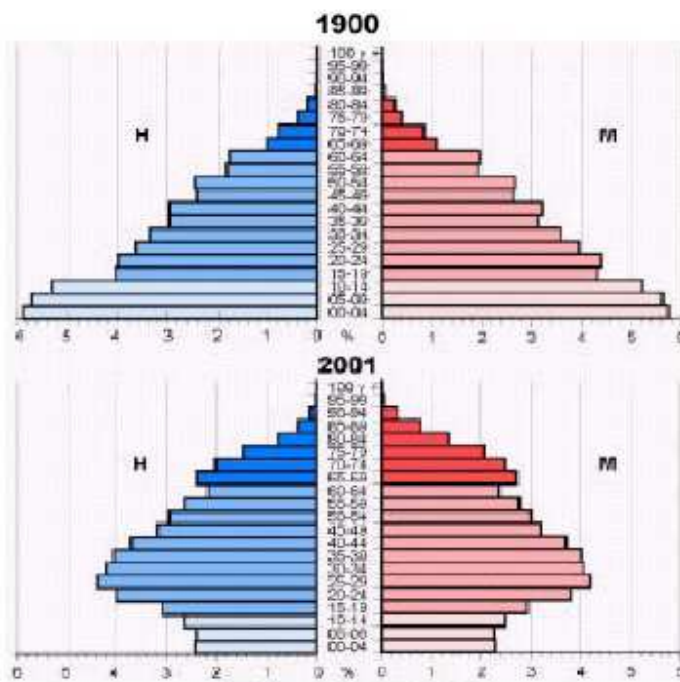
**b) Factores que han influido en la evolución de la población.**

**c) Consecuencias y futuro.**

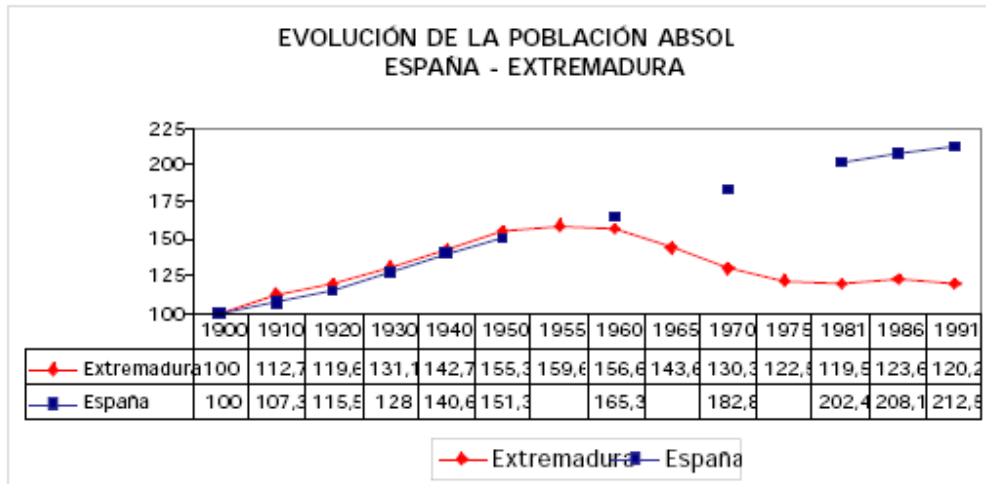


**5. Las figuras muestran la estructura de la población por edad y sexo de la población española en 1900 y en 2001. Obsérvelas y conteste:**

- a) A qué modelo de estructura demográfica corresponde cada una de estas figuras? Razone la respuesta explicando brevemente las causas que dan lugar a ambos modelos al comienzo y final del siglo XX.
- b) Compare la población de 65 y más años en ambas figuras ¿qué diferencias básicas existen?, ¿qué está ocurriendo en la figura de 2001?, ¿qué consecuencias sociales tiene?
- c) Compare la población de 0-14 años en ambas figuras ¿qué diferencias básicas existen?, ¿qué está ocurriendo en la figura de 2001?, ¿qué consecuencias sociales tiene?

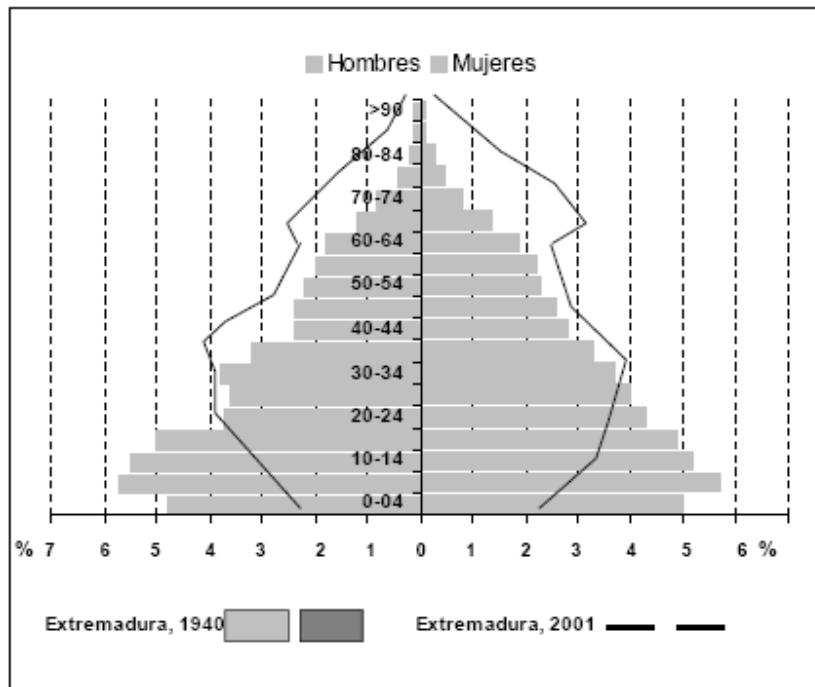


**2. A la vista del gráfico siguiente:**



- a) **Comente la evolución de la población en España y Extremadura.**
- b) **Concrete las diferencias entre ambas y sus causas.**

2.- Según las Pirámides de Población de Extremadura de 1940 (en barras) y de 2001 (en líneas):



- a.- Indique las características fundamentales de estas dos pirámides.
- b.- Explique sus diferencias y las causas que las han motivado.